

3 İLKOKUL • SINIFLAR

BURS ve SIRALAMA SINAVI

**MATEMATİK
İNGİLİZCE**

İSİM-SOYİSİM:

OKUL:

SINAV ÖĞRENCİ NO:

Bize bir kalem yeter !



III. SINIF MATEMATİK SORULARI

1. Ayşe ve Fatma, 5'ten başlayarak ileriye doğru 5'er 5'er saymaktadır. Ayşe'nin 12'nci sırada söylediği doğal sayı ile Fatma'nın 5'inci sırada söylediği doğal sayının toplamı kaçtır?

A) 17

B) 85

C) 90

D) 95

2. Yandaki toplama işleminde, üzeri örtülü olan rakamların toplamı kaçtır?

A) 11

B) 14

C) 15

D) 20

$$\begin{array}{r} 35\boxed{} \\ + 1\boxed{}8 \\ \hline \boxed{}27 \end{array}$$

3. Rakamları birbirinden farklı olan en küçük üç basamaklı çift doğal sayının okunuşu, aşağıdakilerden hangisidir?

A) Yüz

B) Yüz yirmi dört

C) Yüz yirmi altı

D) Yüz iki

4. Yanda, her biri iki basamaklı olan üç doğal sayının küçükten büyüğe doğru sıralanışı görülmektedir. Buna göre, "B" rakamı kaç olabilir?

A) 3

B) 4

C) 5

D) 9

$$\begin{array}{r} 43 \\ B9 \\ 58 \end{array}$$



5. Can, Ali'den 3 yaş küçük, Oya'dan 7 yaş büyüktür. Can 18 yaşında olduğuna göre, Ali ile Oya'nın yaşları farkı kaçtır?

- A) 10 B) 9 C) 5 D) 4

6. Üç basamaklı en küçük tek doğal sayı ile iki basamaklı en büyük tek doğal sayının toplamı kaçtır?

- A) 197 B) 198 C) 200 D) 202

7. "A, 13, 20, 27, 34, 41, 48, 55, B, ..." sayı örüntüsünde "B - A" kaçtır?

- A) 44 B) 46 C) 56 D) 66

8. Romen rakamları ile verilmiş yandaki çıkarma işleminin sonucu kaçtır?

- A) 13 B) 14
C) 15 D) 18

XIX - IV



9. "324 – 89" işleminin sonucunun en yakın onluğa yuvarlanmış biçimi kaçtır?

- A) 235 B) 240 C) 330 D) 340

10. Her bir katında 16 dairenin olduğu 8 katlı bir apartmanda, toplam kaç daire vardır?

- A) 168 B) 128 C) 88 D) 24

11. Cem, bir depodaki portakalların 87'sini bir kasaya yerleştirdikten sonra daha yerleştirmesi gereken 65 portakal olduğunu fark etmiştir. Bu durumda, başlangıçta depoda kaç adet portakal vardı?

- A) 304 B) 184 C) 152 D) 142

12. Berke, her birinin fiyatı 10 TL olan 8 silgi ve her birinin fiyatı 6 TL olan 12 cetvel almıştır. Cebindeki paranın tümünü kasadaki görevliye verdiği zaman, görevli ona 3 TL daha vermesi gerektiğini söylemiştir. Bu durumda, Berke'nin cebindeki para kaç TL'dir?

- A) 159 TL B) 155 TL C) 152 TL D) 149 TL



13. "11" ile "19" arasındaki tek doğal sayıların toplamı kaçtır?

- A) 30 B) 45 C) 56 D) 75

14. "136 ÷ 3" işleminden elde edilen kalan kaçtır?

- A) 0 B) 1 C) 2 D) 3

15. "5" ile "23"ün çarpımının "12" fazlası kaçtır?

- A) 105 B) 115 C) 117 D) 127

16. Yandaki işlemde üzeri örtülü rakamların toplamı kaçtır?

- A) 2 B) 3
C) 5 D) 8

$$\begin{array}{r} \square 2 \\ \times \quad 6 \\ \hline 19\square \end{array}$$

17. Aşağıdaki şekil örüntüsünde soru işareti yerine hangi şekil gelmelidir?



- A) Beyaz kare
C) Beyaz daire

- B) Siyah kare
D) Siyah daire

18. Aşağıdaki doğal sayılardan hangisi, "654" ve "765" arasında değildir?

- A) 658 B) 732 C) 756 D) 765

19. Bir salondaki kadınların sayısı, erkeklerin sayısından 25 fazladır. Salon-
da 68 kadın olduğuna göre, erkeklerin sayısı kaçtır?

- A) 25 B) 43 C) 68 D) 93

20. Yandaki işlemde üzeri örtülü olan doğal sayı kaçtır?

- A) 941 B) 338
C) 265 D) 255

$$\begin{array}{r} 603 \\ - \quad \square \\ \hline 338 \end{array}$$



21. Aşağıdaki doğal sayıların hangisinden 8 çıkarırsak, bir tek doğal sayı elde ederiz?

- A) 134 B) 166 C) 232 D) 327

22. Bir çiftlikte 650 koyun, tavuk ve keçi bulunmaktadır. Çiftlikte bu hayvanların yarısı kadar da inek bulunmaktadır. Çiftlikte bu hayvanların dışında başka bir hayvan bulunmadığına göre, bu çiftlikteki toplam hayvan sayısı kaçtır?

- A) 325 B) 950 C) 975 D) 1 000

23. Aşağıdakilerden hangisi, "15" doğal sayısının Romen rakamıyla yazılmış şeklidir?

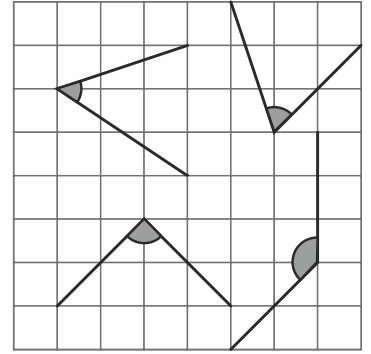
- A) VI B) VIII C) XIX D) XV

24. Aşağıdaki seçeneklerde verilen karşılaştırmalardan hangisi yanlıştır?

- A) $395 < 593 < 899$ B) $249 < 171 < 162$
C) $929 > 542 > 426$ D) $786 > 643 > 412$

25. Yandaki kareli formda görülen açılardan kaç tanesi geniş açı ölçüsündedir?

- A) 1
B) 2
C) 3
D) 4



26. Aşağıdaki bilgilerden hangisi yanlıştır?

- A) Karenin kenar sayısı, dikdörtgenin kenar sayısından azdır.
B) Dikdörtgenin dört adet iç açısı vardır.
C) Üçgenin üç adet köşesi vardır.
D) Üçgenin üç kenarı vardır.

27. Okunuşları verilen aşağıdaki doğal sayılardan hangisi en küçüktür?

- A) Yedi yüz seksen dört
B) Sekiz yüz altmış dört
C) Üç yüz doksan sekiz
D) İki yüz doksan dokuz

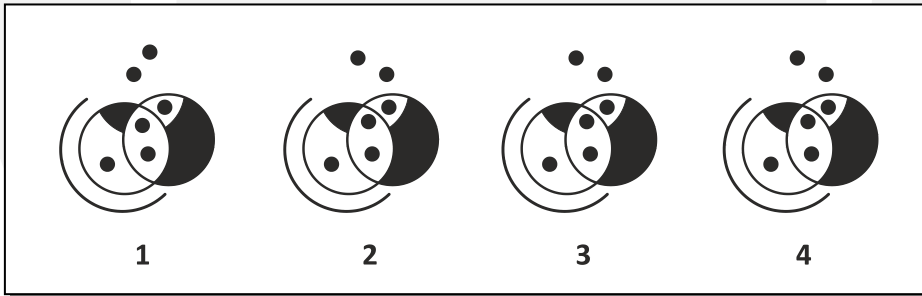
28. Okunuşu "sekiz yüz dört" olan doğal sayıyı oluşturan rakamların toplamı kaçtır?

- A) 4 B) 8 C) 12 D) 13

29. Üç basamaklı "453" doğal sayısında "4"ün basamak değeri ile 345'in farkı kaçtır?

- A) 55 B) 65 C) 305 D) 341

30. Aşağıdaki süslemelerden hangisi, diğer üçünden farklıdır?



- A) 1. B) 2. C) 3. D) 4.

İNGİLİZCE SORULARINA
GEÇİNİZ.

**III. SINIF İNGİLİZCE SORULARI**

1. **A: Where are Bill's shoes?**

B: in the kitchen.

- A) We are
- B) It is
- C) They are
- D) He is

2. **I use my to taste food or drinks.**

- A) tongue
- B) eyes
- C) ears
- D) nose

3. **Choose the correct order to make a meaningful sentence.**

a game	is	Sally	playing	now
1	2	3	4	5

- A) 1 – 2 – 4 – 3 – 5
- B) 3 – 2 – 4 – 1 – 5
- C) 5 – 2 – 3 – 4 – 1
- D) 5 – 1 – 2 – 4 – 3

4. **A: What's the goat doing in this picture?**

B: It is the grass.

- A) eating
- B) playing
- C) running
- D) jumping



5.




In my uncle's farm, there are many animals. There is a cow. There is a grey donkey. There is a dog. There are three pigs and a It is a big animal. It has got four legs and a long tail. It can run fast.

- A) duck
- B) turtle
- C) horse
- D) sheep

6. **Peter has got a cat. name is "Kitty". It is a small animal and it likes playing with small balls.**

- A) My
- B) Our
- C) Their
- D) Its

7. Who is watering the flowers in this picture?




- A) Tom B) Mike C) Sue D) Clara

8. Look at him! He is my father's big brother. He is my

- A) grandfather B) aunt C) uncle D) brother

9. Look at the photo and choose the correct answer.



- A) these
B) those
C) this
D) that

It's an ambulance.

10. Look at the picture and choose the correct one.



- A) Cousin Mark is eating a sandwich.
- B) Jack is listening to music.
- C) Jenny is reading a book.
- D) Sarah is cooking.

**SINAVINIZ SONA ERMİŞTİR
YANITLARINIZI KONTROL EDİNİZ.**